

國立竹北高中 114 學年度第 1 次教師甄選數學科試題卷

(請考生自填) 准考證號碼之末三碼：_____ 姓名：_____

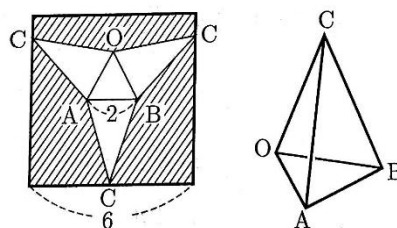
第一部份、填充題（每題 5 分，共 80 分）

1. 若 $f(x) = \int_{-1}^1 (x-t)f(t)dt + 1$ ，則 $f(x) =$ _____。
2. 若 x 為正實數， $\sqrt{x} = \frac{1}{2}(1-a)$ ，則當 $\sqrt{x+a} - \sqrt{x-a+2}$ 恆為一定值時， a 之最大範圍為_____。
3. 設一球面半徑為 2，球心在直線 $L: x = \frac{y}{2} = z + 1$ 上。令此球面與 xy 平面、 yz 平面、 xz 平面所交的圓面積和為 S ，且當 S 有最大值 M 時，此時的球心座標為 (a, b, c) ，求序對 $(M, a, b, c) =$ _____。

4. 在複數平面上，已知 z_1, z_2 互為共軛複數，滿足 $|z_1 - z_2| = 4\sqrt{3}$ ，且 $\frac{z_1}{z_2^2} \in \mathbb{R}$ ，則 $|z_1| =$ _____。

5. 從正整數 1 到 99 中任取 9 個數字，假設取出的 9 個數字中最小的數字為 X ，則 X 的期望值 $E(X) =$ _____。

6. 如下圖(一)，在一張邊長為 6 公分的正方形摺紙圖案中， $\triangle OAB$ 為邊長 2 公分的正三角形， $\triangle COA$ 與 $\triangle CAB$ 與 $\triangle CBO$ 為三個全等的等腰三角形。將此圖案沿著邊界剪下，組成一個三角錐 $C-OAB$ ，則三角錐 $C-OAB$ 之體積為_____立方公分。



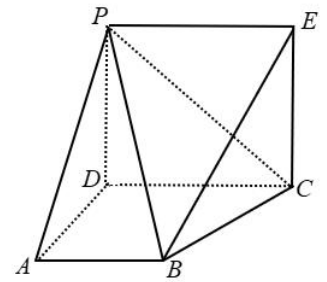
圖(一)

7. 若 $a > 0$ ，函數 $y = f(x) = x^3 - 3a^2x$ 的圖形與方程式 $|x| + |y| = 2$ 之圖形，有 6 個相異之交點，則 a 之範圍為_____。

8. 已知數列 $\{a_n\}$ 滿足 $a_1 = 2, a_{n+1} = \frac{2^{n+1}a_n}{\left(n + \frac{1}{2}\right)a_n + 2^n}$ ，設 $b_n = \frac{2^n}{a_n}$ ，則 $b_n =$ _____。（以 n 表示）

9. $\triangle ABC$ 中， $\overline{AB} = \overline{AC}$ ， $\overline{BC} = 2$ ， $\angle BAC = 2\theta$ ， $0 < \theta < \frac{\pi}{2}$ ，若 $\triangle ABC$ 之外接圓半徑為 R ，內切圓半徑為 r ，則 $\frac{r}{R}$ 之最大值為_____。

10. 如右圖(二)， \overline{PD} 垂直於梯形 $ABCD$ 所在的平面， $\angle ADC = \angle BAD = 90^\circ$ ， $\overline{PD} = \sqrt{2}$ ， $\overline{AB} = \overline{AD} = \frac{1}{2}\overline{CD} = 1$ ，四邊形 $PDCE$ 為矩形，若 F 為 \overline{PA} 中點， Q 為 \overline{EF} 上一點，且 \overline{BQ} 與平面 BCP 所夾的角為 $\frac{\pi}{6}$ ，則 $\overline{FQ} =$ _____。



圖(二)

11. 已知函數 $f(x)$ 的定義域是實數 R ，且 $f(x+2) - 2$ 是奇函數， $f(2x+1)$ 是偶函數。若 $f(1) = 0$ ，試求 $f(1) + f(2) + \dots + f(2025) =$ _____。

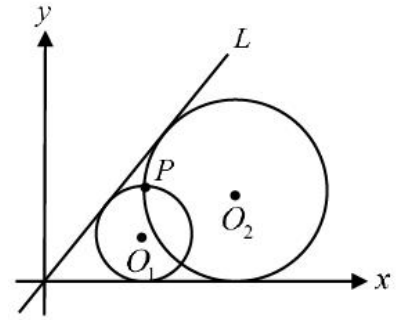
12. 設 (x, y) 滿足
$$\begin{cases} (y-x)\left(y - \frac{18}{25x}\right) \geq 0 \\ (x-1)^2 + (y-1)^2 \leq 1 \end{cases}$$
，則 $2x - y$ 的最小值為 _____。

13. 在複數平面上，滿足 $|z-3i| = \frac{z-\bar{z}}{2i}$ 之所有 z 所形成的圖形為 Γ ，其中 $i = \sqrt{-1}$ ， \bar{z} 為 z 之共軛複數。若 $z \in \Gamma$ ，則 $|z+2-4i| + |z-3i|$ 之最小值為_____。

14. 已知函數 $f(x) = x^2 - x + \sqrt{2x^4 - 6x^2 + 8x + 16}$ 在 $x = a$ 時有最小值 m ，則數對 $(a, m) =$ _____。

15. 設 $f(x) = \frac{\sin \pi x}{x^2}$ ， $0 < x < 1$ ，則 $g(x) = f(x) + f(1-x)$ 的最小值為_____。

16. 如右圖(三)，圓 O_1 、圓 O_2 都與直線 $L: y = kx$ 及 x 軸相切，若兩圓半徑的乘積為 2，且兩圓的一個交點為 $P(2,2)$ ，則 L 的直線方程式為_____。



圖(三)

第二部份、計算證明題 (共 20 分)

1. 已知橢圓 $\Gamma: \frac{x^2}{9} + \frac{y^2}{5} = 1$ 的左焦點為 F_1 ，過 F_1 的直線 L 交橢圓 Γ 於 A 、 B 兩點，點 Q 的座標為 $(-\frac{9}{2}, 0)$ 。若 $\overline{QB} \perp \overline{AB}$ 且直線 L 的斜率為正，求直線 L 的斜率。(5 分)

2. 矩陣 $A = \begin{bmatrix} 7 & 18 \\ -3 & -8 \end{bmatrix}$ ， $\begin{bmatrix} x_1 \\ y_1 \end{bmatrix} = \begin{bmatrix} 1 \\ 0 \end{bmatrix}$ ， $\begin{bmatrix} x_{n+1} \\ y_{n+1} \end{bmatrix} = A \begin{bmatrix} x_n \\ y_n \end{bmatrix}$ ，其中 $n = 1, 2, 3, \dots$ ，坐標平面上點 $P_n(x_n, y_n)$ ，

則：

- (1) 對所有自然數 n ， P_n 均落在坐標平面上一直線 L 上，試求 L 之方程式。(1 分，無須過程)
 - (2) 試證明(1)之結論。(5 分)
 - (3) 試以 n 表示 x_n 與 y_n 。(4 分)
3. 若正數 x ， y 滿足 $xy = 4000$ ，且 $(\log x - \log 2)(\log y - \log 2) = \frac{17}{36}$ ，則 x ， y 中較大數的整數部分為幾位數？(5 分)

【試題到此結束】