

# 102 學年度全國高級中學 指定科目模擬考試

## 數學甲

### —作答注意事項—

考試範圍：第一～四冊全、選修數學甲(上)

考試時間：80 分鐘

作答方式：第壹部分請用 2B 鉛筆在答案卡之「解答欄」內畫記，修正時應以橡皮擦擦拭，切勿使用修正帶（液）。

第貳部分作答於「非選擇題答案卷」，並標明題號。請在規定之欄位以筆尖較粗之黑色墨水的筆書寫，且不得使用鉛筆。更正時，可以使用修正帶（液）。

第參部分作答示例：請仔細閱讀下面的例子。

(一) 單選題及多選題只用 1, 2, 3, 4, 5 等五個格子，而不需要用到 -, ±, 以及 6, 7, 8, 9, 0 等格子。

例：若第 1 題為單選題，選項為(1) 3 (2) 5 (3) 7 (4) 9 (5) 11，而考生得到的答案為 7，亦即選項(3)時，考生要在答案卡第 1 列的  $\boxed{3}$  畫記（注意不是 7），如：

解 答 欄												
	1	2	3	4	5	6	7	8	9	0	-	±
1	<input type="checkbox"/>	<input type="checkbox"/>	<input checked="" type="checkbox"/>	<input type="checkbox"/>	<input type="checkbox"/>	<input type="checkbox"/>	<input type="checkbox"/>	<input type="checkbox"/>	<input type="checkbox"/>	<input type="checkbox"/>	<input type="checkbox"/>	<input type="checkbox"/>

例：若第 5 題為多選題，而考生認為正確的選項為(1)與(3)時，考生要在答案卡第 5 列的  $\boxed{1}$  與  $\boxed{3}$  畫記，如：

5	<input checked="" type="checkbox"/>	<input type="checkbox"/>	<input checked="" type="checkbox"/>	<input type="checkbox"/>	<input type="checkbox"/>	<input type="checkbox"/>	<input type="checkbox"/>	<input type="checkbox"/>	<input type="checkbox"/>	<input type="checkbox"/>	<input type="checkbox"/>	<input type="checkbox"/>
---	-------------------------------------	--------------------------	-------------------------------------	--------------------------	--------------------------	--------------------------	--------------------------	--------------------------	--------------------------	--------------------------	--------------------------	--------------------------

(二) 選填題的題號是 A, B, C, …，而答案的格式每題可能不同，考生必須依各題的格式填答，且每一個列號只能在一個格子畫記。

例：若第 C 題的答案格式是  $\frac{\textcircled{20}\textcircled{21}}{50}$ ，而依題意計算出來的答案是  $\frac{-7}{50}$  時，則考生必須分別

在答案卡的第 20 列的  $\boxed{-}$  與第 21 列的  $\boxed{7}$  畫記，如：

20	<input type="checkbox"/>	<input type="checkbox"/>	<input type="checkbox"/>	<input type="checkbox"/>	<input type="checkbox"/>	<input type="checkbox"/>	<input type="checkbox"/>	<input type="checkbox"/>	<input type="checkbox"/>	<input type="checkbox"/>	<input checked="" type="checkbox"/>	<input type="checkbox"/>
21	<input type="checkbox"/>	<input type="checkbox"/>	<input type="checkbox"/>	<input type="checkbox"/>	<input type="checkbox"/>	<input type="checkbox"/>	<input checked="" type="checkbox"/>	<input type="checkbox"/>	<input type="checkbox"/>	<input type="checkbox"/>	<input type="checkbox"/>	<input type="checkbox"/>

祝考試順利



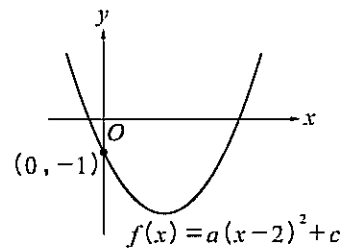
版權所有 · 翻印必究

第壹部分：選擇題（單選題、多選題及選填題共占 78 分）

一、單選題（24 分）

說明：第 1 題至第 4 題，每題有 5 個選項，其中只有一個是正確或最適當的選項，請畫記在答案卡之「解答欄」。各題答對者，得 6 分；答錯、未作答或畫記多於一個選項者，該題以零分計算。

1. 如右圖所示，拋物線  $f(x) = a(x-2)^2 + c$  ( $ac \neq 0$ )，其圖形過點  $(0, -1)$ ，另一函數  $g(x) = c(x-2)^2 + a$ ，若方程式  $f(x) = g(x)$  的解為  $\alpha, \beta$  且  $\alpha < \beta$ ，則下列敘述何者正確？



- (1)  $f(\alpha) > 0$
- (2)  $|a| > |c|$
- (3)  $1 \leq \alpha < \beta \leq 3$
- (4)  $\alpha\beta < 0$
- (5) 條件不足，無法確定  $\alpha, \beta$  位置

2. 已知以  $x, y$  為未知數之方程組  $\begin{cases} y = x^2 + \frac{1}{4} \\ y = x \tan \theta \end{cases}$  有實數解，下列哪一選項之  $\theta$  值可滿足此一條件？

- (1) 0
- (2)  $\frac{\pi}{6}$
- (3)  $\frac{5\pi}{6}$
- (4)  $\frac{2\pi}{3}$
- (5)  $\pi$

3. 就三元一次方程組 
$$\begin{cases} x+2y+z=0 \\ 2x+ay+2z=4 \\ x+6y+(1-a)z=-4 \end{cases}$$
 中三平面關係，下列哪一選項正確？

- (1) 當  $a=1$  時，方程組無限多組解，三平面關係為三平面交於一條直線
- (2) 當  $a=0$  時，方程組無限多組解，三平面關係為三平面交於一條直線
- (3) 當  $a=0$  時，方程組無解，三平面關係為三平面兩兩交於一直線
- (4) 當  $a=4$  時，方程組無限多組解，三平面關係為兩平面重疊並與第三個平面交於一條直線
- (5) 當  $a=5$  時，方程組恰有一解  $(12, -4, -4)$ ，三平面關係為三平面交於一點

4. 歡樂大贏家節目中，有  $A$ 、 $B$ 、 $C$ 、 $D$  四扇門，其中一扇門後有最大獎汽車一輛，另外三扇門則各為電視一臺，參賽者須由四扇門中選擇一扇門。當參賽者選好門後，主持人會打開剩下的三扇門中後面為電視的其中一扇門，並且讓參賽者決定要不要更改他的選擇。若參賽者決定換成剩下的兩扇門之一，則他贏得汽車大獎的機率為多少？

- (1)  $\frac{1}{4}$
- (2)  $\frac{1}{3}$
- (3)  $\frac{3}{8}$
- (4)  $\frac{1}{2}$
- (5)  $\frac{3}{4}$

二、多選題 (40 分)

說明：第 5 題至第 9 題，每題有 5 個選項，其中至少有一個是正確的選項，選出正確選項，畫記在答案卡之「解答欄」。每題之選項獨立判定，所有選項均答對者，得 8 分；答錯 1 個選項者，得 4.8 分；答錯 2 個選項者，得 1.6 分；所有選項均未作答或答錯多於 2 個選項者，該題以零分計算。

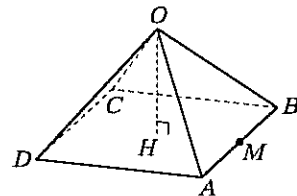
5. 坐標平面上，直線  $x=m$  ( $m>0$ ) 與對數函數  $y=\log_2 x$ 、 $y=\log_4 x$ 、 $y=\log_8 x$  圖形分別交於點  $A_m$ 、 $B_m$ 、 $C_m$ ，下列敘述何者正確？

- (1)  $\overline{A_1A_2} = \sqrt{2}$
- (2)  $\overline{A_3B_9} = 6$
- (3)  $\overline{A_2B_2}$ ， $\overline{A_4B_4}$ ， $\overline{A_8B_8}$  成等比數列
- (4)  $\overline{A_3B_3}$ ， $\overline{A_6B_6}$ ， $\overline{A_{12}B_{12}}$  成等差數列
- (5)  $\overline{A_8B_8} : \overline{A_8C_8} = 3 : 4$

6. 設  $A$ 、 $B$  均為  $n$  階方陣 ( $O$  為  $n$  階零方陣， $I$  為  $n$  階單位方陣)，則下列各性質，何者必成立？

- (1) 設  $A^{-1}$  與  $B^{-1}$  均存在，則  $(AB)^{-1} = A^{-1}B^{-1}$
- (2)  $(A+B)(A-B) = A^2 - B^2$
- (3) 若  $AB = O$ ，則  $BA = O$
- (4) 若  $AB = I$ ，則  $BA = I$
- (5)  $(A+I)(A^2 - A + I) = A^3 + I$

7. 四角錐  $O-ABCD$  中， $\overline{OA} = \overline{OB} = \overline{OC} = \overline{OD} = \sqrt{34}$ ，  
 $\overline{AB} = \overline{BC} = \overline{CD} = \overline{DA} = 6$ ，且  $ABCD$  為正方形，過  $O$   
作  $ABCD$  平面之垂線，交此平面於  $H$ ， $M$  為  $\overline{AB}$  中點，  
下列各敘述哪些為真？



(1)  $\overline{OM} = \sqrt{24}$

(2)  $\overline{OH} = \sqrt{15}$

(3) 令平面  $ABCD$  與平面  $ABO$  所夾銳角為  $\theta$ ，則  $\cos \theta = \frac{3}{5}$

(4)  $A$  到  $\overrightarrow{OB}$  之距離為  $\frac{30}{\sqrt{34}}$

(5) 若平面  $OAB$  與平面  $OBC$  所夾之銳角為  $\phi$ ，則  $\cos \phi = \frac{9}{25}$

8. 在半徑為 1 的圓上作內接正六邊形  $ABCDEF$ ，由  $ABCDEF$  任取相異三點作三角形的頂點，  
請選出正確的選項。

(1) 此三角形面積最小值為  $\frac{\sqrt{3}}{4}$

(2) 此三角形面積最大值為  $\frac{3\sqrt{3}}{4}$

(3) 此三角形為正三角形的機率為  $\frac{1}{10}$

(4) 此三角形為鈍角三角形的機率為  $\frac{6}{10}$

(5) 所得的三角形面積的期望值為  $\frac{11\sqrt{3}}{20}$

9. 等腰梯形  $ABCD$  中， $\overline{AB} \parallel \overline{CD}$  且  $\overline{AB} \neq \overline{CD}$ ，且  $\overrightarrow{AB} = (-3, 4)$ ， $\overrightarrow{AD} = (7, -1)$ ，若  $M$ 、 $N$  分別為  $\overline{AB}$ 、 $\overline{BC}$  中點，則下列敘述何者正確？

(1)  $|\overrightarrow{AB} + \overrightarrow{AD}| = 5\sqrt{2}$

(2)  $\overrightarrow{AC} = (4, 3)$

(3)  $\overrightarrow{DC} = 2\overrightarrow{AB}$

(4)  $\frac{1}{3}\overrightarrow{CD} + \overrightarrow{CB} = \overrightarrow{CA}$

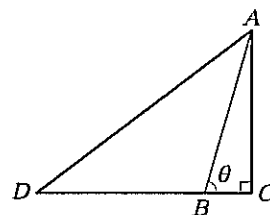
(5)  $\overrightarrow{DB} = \frac{6}{7}\overrightarrow{DM} + \frac{2}{7}\overrightarrow{DN}$

三、選填題 (14 分)

說明：第 A. 題至第 B. 題為選填題，將答案畫記在答案卡之「解答欄」所標示的列號 (10-13) 內。每一題完全答對得 7 分，答錯不倒扣；未完全答對不給分。

A. 如右圖  $\triangle ACD$ ，已知  $\angle C = 90^\circ$  且  $\overline{AB} = \overline{BD}$ ，若  $\sin \theta = \frac{24}{25}$ ，求

$\tan \frac{\theta}{2}$  之值為  $\frac{\textcircled{10}}{\textcircled{11}}$ 。(化為最簡分數)



B. 在坐標平面上，已知  $O$  為原點， $C(4, 2)$  為圓  $(x-4)^2 + (y-2)^2 = 4$  的圓心，設直線

$L: y = mx$  ( $m < 1$ ) 與圓  $C$  交於  $P$ 、 $Q$  相異兩點，其中  $\overline{OP} < \overline{OQ}$ 。當  $\triangle CPQ$  面積為最大

時， $m$  之值為  $\frac{\textcircled{12}}{\textcircled{13}}$ 。(化為最簡分數)

## 第貳部分：非選擇題（占 22 分）

說明：本部分共有二大題計算題，答案必須寫在「答案卷」上，並於題號欄標明題號（一、二）與子題號（(1)、(2)、(3)），同時必須寫出演算過程或理由，否則將予扣分。務必使用筆尖較粗之黑色墨水的筆書寫，且不得使用鉛筆。每題配分標於題末。

一、設有  $A$ 、 $B$ 、 $C$  三支大瓶子，開始時， $A$  瓶裝有  $a$  公升的水， $B$  瓶裝有  $b$  公升的水， $C$  瓶裝有  $c$  公升的水。每一輪操作都是先將  $A$  瓶的水倒出一半到  $B$  瓶，然後再將  $B$  瓶的水倒出一半到  $C$  瓶，然後再將  $C$  瓶的水倒出一半回  $A$  瓶，完成一輪的操作。設  $n$  輪操作後， $A$  瓶有  $a_n$  公升的水， $B$  瓶有  $b_n$  公升的水， $C$  瓶有  $c_n$  公升的水。

(1) 此倒水問題中，操作前三瓶內之水量與操作後三瓶內之水量的轉移矩陣  $D$  為何？

(4 分)

(2) 當  $a=1$ ， $b=1$ ， $c=1$  時，求  $a_2$  及  $b_2$  及  $c_2$ 。(4 分)

(3) 長久操作後， $A$  瓶內有  $x$  公升的水， $B$  瓶內有  $y$  公升的水， $C$  瓶內有  $z$  公升的水，滿足

$$D \begin{bmatrix} x \\ y \\ z \end{bmatrix} = \begin{bmatrix} x \\ y \\ z \end{bmatrix}, \text{ 若 } x+y+z=1, \text{ 則 } x, y, z \text{ 之值為何? (4 分)}$$

二、方程式  $z^6=4-4\sqrt{3}i$  的六個根分別為  $z_0, z_1, z_2, z_3, z_4, z_5$ 。今將六個根描繪在複數平面上，依次相連得一正六邊形。

(1) 此六個頂點中，有  $a$  個點在第二象限， $b$  個點在第三象限，試求數對  $(a, b)$ 。(5 分)

(2) 試求  $|z_0-z_1| + |z_0-z_2| + |z_0-z_3| + |z_0-z_4| + |z_0-z_5|$  之值。(5 分)

# 數學考科詳解

題號	1.	2.	3.	4.	5.	6.	7.	8.	9.
答案	(3)	(4)	(2)	(3)	(1)(2)(4)(5)	(4)(5)	(3)(4)	(1)(2)(3)	(4)(5)

## 第壹部分：選擇題

### 一、單選題

1. (3)

出處：第一冊第二章〈多項式函數〉

目標：理解二次多項式函數圖形及求二次方程式的根

解析：\$f(x) = g(x)\$

$$\Rightarrow a(x-2)^2 + c = c(x-2)^2 + a$$

$$\Rightarrow (a-c)(x-2)^2 + (c-a) = 0$$

$$\Rightarrow (a-c)[(x-2)^2 - 1] = 0$$

$$\Rightarrow a=c \text{ 或 } (x-2)^2 = 1$$

$$\Rightarrow a=c \text{ 或 } x=1 \text{ 或 } 3$$

$$\therefore f(0) = -1 \Rightarrow 4a + c = -1$$

若 \$a=c\$ 則 \$a=c = -\frac{1}{5}\$ (不合 \$\because a > 0\$)

\$x=1\$ 或 \$3 \Rightarrow \alpha = 1, \beta = 3\$

(1) \$\times\$ : 由題圖知 \$f(\alpha) = f(1) < 0\$

(2) \$\times\$ : \$f(1) = a+c < 0 \Rightarrow |a| < |c|\$

(3) \$\circ\$ : \$1 \leq \alpha < \beta \leq 3\$

(4) \$\times\$ : \$\alpha\beta = 1 \times 3 > 0\$

(5) \$\times\$

故選(3)。

2. (4)

出處：選修數學甲(上)第二章〈三角函數〉

目標：實數解與判別式的關係，由 \$\tan\$ 函數的範圍找出對應的角

解析：兩式解聯立得 \$x^2 + \frac{1}{4} = x \tan \theta\$

$$\Rightarrow x^2 - (\tan \theta)x + \frac{1}{4} = 0$$

由判別式 \$D \geq 0\$ 找出 \$\tan \theta\$ 的範圍

$$(-\tan \theta)^2 - 4\left(\frac{1}{4}\right) \geq 0$$

$$\Rightarrow \tan^2 \theta \geq 1$$

(1) \$\tan^2 0 = 0\$

(2) \$\tan^2 \frac{\pi}{6} = \frac{1}{3}\$

(3) \$\tan^2 \frac{5\pi}{6} = \frac{1}{3}\$

(4) \$\tan^2 \frac{2\pi}{3} = 3\$

(5) \$\tan^2 \pi = 0\$

符合上述條件者，故選(4)。



## 3. (2)

出處：第四冊第二章〈空間中的平面與直線〉

目標：了解空間中三平面的關係

$$\text{解析：}\Delta = \begin{vmatrix} 1 & 2 & 1 \\ 2 & a & 2 \\ 1 & 6 & 1-a \end{vmatrix} = -a(a-4)$$

$$\Delta_x = \begin{vmatrix} 0 & 2 & 1 \\ 4 & a & 2 \\ -4 & 6 & 1-a \end{vmatrix} = 12a$$

$$\Delta_y = \begin{vmatrix} 1 & 0 & 1 \\ 2 & 4 & 2 \\ 1 & -4 & 1-a \end{vmatrix} = -4a$$

$$\Delta_z = \begin{vmatrix} 1 & 2 & 0 \\ 2 & a & 4 \\ 1 & 6 & -4 \end{vmatrix} = -4a$$

① 當  $a=4$  時， $\Delta=0$ ， $\Delta_x$ ， $\Delta_y$ ， $\Delta_z \neq 0$ ，故無解，其圖形為前兩平面平行，並與第三個平面交於一直線

② 當  $a=0$  時， $\Delta=\Delta_x=\Delta_y=\Delta_z=0$ ，有無限多組解，又三平面法向量不平行故其圖形為三平面交於一直線

③ 當  $a \neq 0, 4$  時，恰有一解  $\left(\frac{-12}{a-4}, \frac{4}{a-4}, \frac{4}{a-4}\right)$ ，其圖形為三平面交於一點

故選(2)。

## 4. (3)

出處：第二冊第三章〈機率〉

目標：利用獨立事件的機率特性解題

$$\text{解析：}P(\text{中最大獎})=P(\text{未選中最大獎且換到有最大獎門})=\frac{3}{4} \times \frac{1}{2} = \frac{3}{8}$$

故選(3)。

## 二、多選題

## 5. (1)(2)(4)(5)

出處：第一冊第三章〈指數、對數函數〉

目標：利用對數函數的運算處理乘除與次方問題

$$\text{解析：(1) } \circ : \text{點 } A_1(1, \log_2 1) = (1, 0), \text{ 點 } A_2(2, \log_2 2) = (2, 1) \Rightarrow \overline{A_1 A_2} = \sqrt{2}$$

$$(2) \circ : \text{點 } A_3(3, \log_2 3), \text{ 點 } B_9(9, \log_4 9) = (9, \log_2 3) \Rightarrow \overline{A_3 B_9} = 6$$

$$(3) \times : A_2(2, \log_2 2), B_2(2, \log_4 2) \Rightarrow \overline{A_2 B_2} = \log_2 2 - \log_4 2 = \frac{1}{2} \log_2 2 = \frac{1}{2}$$

$$A_4(4, \log_2 4), B_4(4, \log_4 4) \Rightarrow \overline{A_4 B_4} = \log_2 4 - \log_4 4 = \frac{1}{2} \log_2 4 = 1$$

$$A_8(8, \log_2 8), B_8(8, \log_4 8) \Rightarrow \overline{A_8 B_8} = \log_2 8 - \log_4 8 = \frac{1}{2} \log_2 8 = \frac{3}{2}$$

$$\Rightarrow \overline{A_2 B_2}, \overline{A_4 B_4}, \overline{A_8 B_8} \text{ 成等差數列}$$

$$(4) \circ : \text{同理 } \overline{A_3 B_3} = \log_2 3 - \log_4 3 = \frac{1}{2} \log_2 3$$

$$\overline{A_6 B_6} = \log_2 6 - \log_4 6 = \frac{1}{2} \log_2 6 = \frac{1}{2} + \frac{1}{2} \log_2 3$$

$$\overline{A_{12} B_{12}} = \log_2 12 - \log_4 12 = \frac{1}{2} \log_2 12 = 1 + \frac{1}{2} \log_2 3$$

$$\Rightarrow \overline{A_3 B_3}, \overline{A_6 B_6}, \overline{A_{12} B_{12}} \text{ 成等差數列}$$

$$(5) \circ : \overline{A_8 B_8} = \frac{3}{2}, \overline{A_8 C_8} = \log_2 8 - \log_8 8 = 2 \Rightarrow \overline{A_8 B_8} : \overline{A_8 C_8} = 3 : 4$$

故選(1)(2)(4)(5)。

6. (4)(5)

出處：第四冊第三章〈矩陣〉

目標：熟悉矩陣的基本運算

解析：(1) × :  $(AB)^{-1} = B^{-1}A^{-1}$

(2) × :  $(A+B)(A-B) = A^2 - AB + BA - B^2$

(3) × : 若  $A = \begin{bmatrix} 1 & 0 \\ 0 & 0 \end{bmatrix}$ 、 $B = \begin{bmatrix} 0 & 0 \\ 1 & 0 \end{bmatrix}$ ，則  $AB = \begin{bmatrix} 0 & 0 \\ 0 & 0 \end{bmatrix}$  但  $BA = \begin{bmatrix} 0 & 0 \\ 1 & 0 \end{bmatrix} \neq O$

(4) ○ : 若  $AB = I \Rightarrow B = A^{-1} \Rightarrow BA = A^{-1}A = I$

(5) ○ :  $(A+I)(A^2-A+I) = A^3+I$

故選(4)(5)。

7. (3)(4)

出處：第四冊第一章〈空間向量〉

目標：三垂線定理及兩面角定義

解析：因為  $\overline{OH}$  垂直平面  $ABCD$ ， $\overline{OM}$  為等腰  $\triangle OAB$  之中線，

因此  $\overline{OM}$  垂直  $\overline{AB}$

所以由三垂線定理知， $\overline{HM}$  垂直  $\overline{AB}$

(1) × :  $\overline{OM} = \sqrt{\overline{OA}^2 - \overline{AM}^2} = \sqrt{34-9} = 5$

(2) × :  $\overline{OH} = \sqrt{\overline{OM}^2 - \overline{MH}^2} = \sqrt{25-9} = 4$

(3) ○ :  $\because \overline{OM}$  垂直  $\overline{AB}$ ，且  $\overline{HM}$  垂直  $\overline{AB} \therefore \angle OMH = \theta$

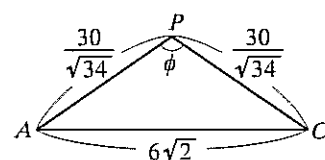
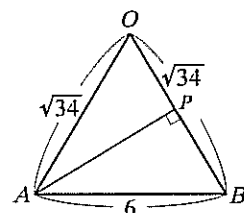
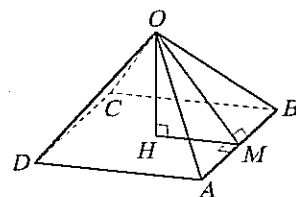
$$\Rightarrow \cos \theta = \frac{\overline{HM}}{\overline{OM}} = \frac{3}{5}$$

(4) ○ : 令  $\overline{AP}$  為  $A$  到  $\overline{OB}$  的距離， $\triangle AOB$  面積為  $\frac{6 \times 5}{2} = \frac{\sqrt{34} \times \overline{AP}}{2}$

$$\Rightarrow \overline{AP} = \frac{30}{\sqrt{34}}$$

(5) × : 承(4)， $\cos \phi = \frac{\left(\frac{30}{\sqrt{34}}\right)^2 + \left(\frac{30}{\sqrt{34}}\right)^2 - (6\sqrt{2})^2}{2 \times \frac{30}{\sqrt{34}} \times \frac{30}{\sqrt{34}}} = -\frac{9}{25}$

故選(3)(4)。

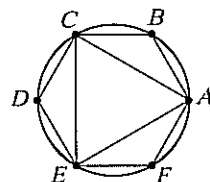
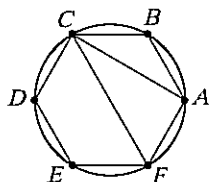
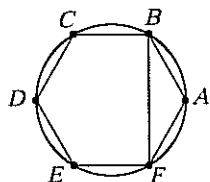


8. (1)(2)(3)

出處：選修數學甲(上)第一章〈機率統計II〉

目標：數学期望值與機率的應用

解析：



事件	與 $\triangle ABF$ 全等者	與 $\triangle ACF$ 全等者	與 $\triangle ACE$ 全等者
面積 $m_i$	$\frac{\sqrt{3}}{4}$	$\frac{2\sqrt{3}}{4}$	$\frac{3\sqrt{3}}{4}$
機率 $p_i$	$\frac{6}{C_3^6} = \frac{3}{10}$	$\frac{12}{C_3^6} = \frac{6}{10}$	$\frac{2}{C_3^6} = \frac{1}{10}$

所求期望值為  $\frac{\sqrt{3}}{4} \times \frac{3}{10} + \frac{2\sqrt{3}}{4} \times \frac{6}{10} + \frac{3\sqrt{3}}{4} \times \frac{1}{10} = \frac{9\sqrt{3}}{20}$

故選(1)(2)(3)。

9. (4)(5)

出處：第三冊第三章〈平面向量〉

目標：向量的坐標表示、參數式

解析：(1) × :  $\overrightarrow{AB} + \overrightarrow{AD} = (-3, 4) + (7, -1) = (4, 3)$

$$\Rightarrow |\overrightarrow{AB} + \overrightarrow{AD}| = \sqrt{4^2 + 3^2} = 5$$

(2) × : 令 A 點為  $(0, 0)$ ，則 B 點為  $(-3, 4)$ ，D 點為  $(7, -1)$ ，

因為  $\overline{AB} \parallel \overline{CD}$ ，C 點為  $(7-3t, -1+4t)$

$\therefore ABCD$  為等腰梯形

$$\therefore \overline{AD} = \overline{BC} \Rightarrow (7-0)^2 + (-1-0)^2 = [7-3t - (-3)]^2 + (-1+4t-4)^2$$

$$\Rightarrow t^2 - 4t + 3 = 0 \Rightarrow t = 1 \text{ 或 } 3$$

當  $t = 1$  時，C 點為  $(4, 3)$  (不合  $\because \overline{AB} = \overline{CD}$ )

$t = 3$  時，C 點為  $(-2, 11)$

$$\text{故 } \overrightarrow{AC} = (-2, 11)$$

(3) × :  $\overrightarrow{DC} = (-9, 12)$ ， $\overrightarrow{AB} = (-3, 4)$

$$\Rightarrow \overrightarrow{DC} = 3\overrightarrow{AB}$$

(4) ○ :  $\because \frac{1}{3}\overrightarrow{CD} = -\overrightarrow{AB}$

$$\Rightarrow \frac{1}{3}\overrightarrow{CD} + \overrightarrow{CB} = -\overrightarrow{AB} + \overrightarrow{CB} = \overrightarrow{CA}$$

(5) ○ : 設  $\overline{DN}$  交  $\overline{AB}$  於 K 點

$\because N$  為  $\overline{BC}$  中點，且  $\overline{AB} \parallel \overline{CD}$

$\therefore \triangle CDN \cong \triangle BKN$

$$\Rightarrow \overline{CD} = \overline{BK} = 15, \overline{DN} = \overline{NK}$$

又  $M$  為  $\overline{AB}$  中點

$$\therefore \overline{BM} = \frac{1}{2}\overline{AB} = \frac{5}{2}$$

$$\Rightarrow \overline{BM} : \overline{BK} = \frac{5}{2} : 15 = 1 : 6$$

$$\Rightarrow \overrightarrow{DB} = \frac{6}{7}\overrightarrow{DM} + \frac{1}{7}\overrightarrow{DK} = \frac{6}{7}\overrightarrow{DM} + \frac{2}{7}\overrightarrow{DN}$$

故選(4)(5)。

### 三、選填題

A.  $\frac{3}{4}$

出處：第三冊第一章〈三角〉

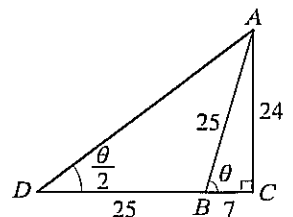
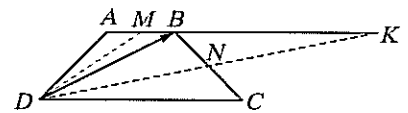
目標：直角三角形的邊角關係

解析： $\because \sin \theta = \frac{24}{25} = \frac{\overline{AC}}{\overline{AB}}$ ，假設  $\overline{AB} = 25$ ， $\overline{AC} = 24$

因此  $\overline{BC} = 7$

又  $\overline{AB} = \overline{BD} = 25$ ，

$$\text{故 } \tan \frac{\theta}{2} = \frac{\overline{AC}}{\overline{CD}} = \frac{24}{32} = \frac{3}{4}。$$



B.  $\frac{1}{7}$

出處：第三冊第二章〈直線與圓〉、第三冊第三章〈平面向量〉

目標：極值，點與直線的距離

解析：當  $\angle PCQ$  為直角時， $\triangle CPQ$  面積為最大

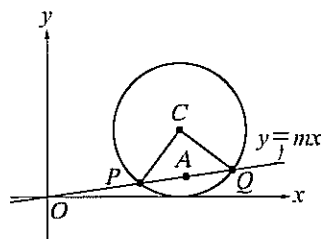
$$\overline{PC} = \overline{QC} = 2$$

$$\overline{PQ} = \sqrt{\overline{PC}^2 + \overline{QC}^2} = \sqrt{8}$$

$$\overline{AC} = \frac{\overline{PC} \times \overline{QC}}{\overline{PQ}} = \frac{2 \times 2}{\sqrt{8}} = \sqrt{2} \quad (A \text{ 為 } \overline{PQ} \text{ 中點})$$

$C(4, 2)$  到直線  $L: mx - y = 0$  的距離  $d(C, L) = \overline{AC} = \sqrt{2}$

$$\frac{|4m - 2|}{\sqrt{m^2 + (-1)^2}} = \sqrt{2} \Rightarrow m = 1 \text{ (不合) 或 } m = \frac{1}{7}。$$



第貳部分：非選擇題

$$\text{一、(1) } \begin{bmatrix} \frac{5}{8} & \frac{1}{4} & \frac{1}{2} \\ \frac{1}{4} & \frac{1}{2} & 0 \\ \frac{1}{8} & \frac{1}{4} & \frac{1}{2} \end{bmatrix}; (2) a_2 = \frac{95}{64}, b_2 = \frac{23}{32}, c_2 = \frac{51}{64}; (3) x = \frac{1}{2}, y = \frac{1}{4}, z = \frac{1}{4}$$

出處：第四冊第三章〈矩陣〉

目標：熟悉轉移矩陣的應用與計算

解析：(1) 剛開始時，A 瓶有  $a$  公升的水，B 瓶有  $b$  公升的水，C 瓶有  $c$  公升的水。經過一輪後，

A 瓶有  $\frac{5a}{8} + \frac{b}{4} + \frac{c}{2}$  公升的水，B 瓶有  $\frac{a}{4} + \frac{b}{2}$  公升的水，C 瓶有  $\frac{a}{8} + \frac{b}{4} + \frac{c}{2}$  公升的水

$$\text{故轉移矩陣 } D = \begin{bmatrix} \frac{5}{8} & \frac{1}{4} & \frac{1}{2} \\ \frac{1}{4} & \frac{1}{2} & 0 \\ \frac{1}{8} & \frac{1}{4} & \frac{1}{2} \end{bmatrix}$$

$$(2) \begin{bmatrix} a_1 \\ b_1 \\ c_1 \end{bmatrix} = \begin{bmatrix} \frac{5}{8} & \frac{1}{4} & \frac{1}{2} \\ \frac{1}{4} & \frac{1}{2} & 0 \\ \frac{1}{8} & \frac{1}{4} & \frac{1}{2} \end{bmatrix} \begin{bmatrix} 1 \\ 1 \\ 1 \end{bmatrix} = \begin{bmatrix} \frac{11}{8} \\ \frac{3}{4} \\ \frac{7}{8} \end{bmatrix}$$

$$\Rightarrow \begin{bmatrix} a_2 \\ b_2 \\ c_2 \end{bmatrix} = \begin{bmatrix} \frac{5}{8} & \frac{1}{4} & \frac{1}{2} \\ \frac{1}{4} & \frac{1}{2} & 0 \\ \frac{1}{8} & \frac{1}{4} & \frac{1}{2} \end{bmatrix} \begin{bmatrix} \frac{11}{8} \\ \frac{3}{4} \\ \frac{7}{8} \end{bmatrix} = \begin{bmatrix} \frac{95}{64} \\ \frac{23}{32} \\ \frac{51}{64} \end{bmatrix}, \text{ 即 } a_2 = \frac{95}{64}, b_2 = \frac{23}{32}, c_2 = \frac{51}{64}$$

$$(3) \begin{bmatrix} \frac{5}{8} & \frac{1}{4} & \frac{1}{2} \\ \frac{1}{4} & \frac{1}{2} & 0 \\ \frac{1}{8} & \frac{1}{4} & \frac{1}{2} \end{bmatrix} \begin{bmatrix} x \\ y \\ z \end{bmatrix} = \begin{bmatrix} x \\ y \\ z \end{bmatrix} \Rightarrow \begin{cases} -\frac{3}{8}x + \frac{1}{4}y + \frac{1}{2}z = 0 \\ \frac{1}{4}x = \frac{1}{2}y \\ \frac{1}{8}x + \frac{1}{4}y - \frac{1}{2}z = 0 \end{cases}$$

$$\Rightarrow x : y : z = 2 : 1 : 1$$

$$\text{故 } x = \frac{1}{2}, y = \frac{1}{4}, z = \frac{1}{4}。$$

二、(1) (2, 1) ; (2)  $4\sqrt{2} + 2\sqrt{6}$

出處：選修數學甲(上)第二章〈三角函數〉

目標：能將複數化為極式、求出  $a$  的  $n$  個  $n$  次方根，及了解其幾何意義

解析： $\because 4 - 4\sqrt{3}i = 8 \left( \cos\left(-\frac{\pi}{3}\right) + i\sin\left(-\frac{\pi}{3}\right) \right)$

$\therefore 4 - 4\sqrt{3}i$  的六次方根為  $z_k = \sqrt{2} \left( \cos\left(\frac{k\pi}{3} - \frac{\pi}{18}\right) + i\sin\left(\frac{k\pi}{3} - \frac{\pi}{18}\right) \right)$ ,  $k=0, 1, 2, 3, 4, 5$

即  $z_0 = \sqrt{2} \left( \cos\left(-\frac{\pi}{18}\right) + i\sin\left(-\frac{\pi}{18}\right) \right)$ ,  $z_1 = \sqrt{2} \left( \cos\frac{5\pi}{18} + i\sin\frac{5\pi}{18} \right)$ ,

$z_2 = \sqrt{2} \left( \cos\frac{11\pi}{18} + i\sin\frac{11\pi}{18} \right)$ ,  $z_3 = \sqrt{2} \left( \cos\frac{17\pi}{18} + i\sin\frac{17\pi}{18} \right)$ ,

$z_4 = \sqrt{2} \left( \cos\frac{23\pi}{18} + i\sin\frac{23\pi}{18} \right)$ ,  $z_5 = \sqrt{2} \left( \cos\frac{29\pi}{18} + i\sin\frac{29\pi}{18} \right)$

(1) 如右圖， $z_2, z_3$  在第二象限， $z_4$  在第三象限，因此  $a=2, b=1$

所以數對  $(a, b) = (2, 1)$ 。

(2)  $\because |z_0 - z_1| = |z_0 - z_5| = \sqrt{2}$ ,  $|z_0 - z_3| = 2\sqrt{2}$ ,  $|z_0 - z_2| = |z_0 - z_4|$

設  $|z_0 - z_2| = |z_0 - z_4| = x$ ,

利用餘弦定理  $x^2 = (\sqrt{2})^2 + (\sqrt{2})^2 - 2 \times \sqrt{2} \times \sqrt{2} \times \frac{2}{3}\pi$

$\therefore x = \sqrt{6} \Rightarrow |z_0 - z_2| = |z_0 - z_4| = \sqrt{6}$

故  $|z_0 - z_1| + |z_0 - z_2| + |z_0 - z_3| + |z_0 - z_4| + |z_0 - z_5| = 4\sqrt{2} + 2\sqrt{6}$

