

# 2016 (第 17 屆) AMC12A 試題

俞克斌老師編寫

1. 試求  $\frac{11!-10!}{9!}$  之值為何? (註:  $n!=1\times 2\times 3\times \dots\times n$ )

- (A) 99 (B) 100 (C) 110 (D) 121 (E) 132

【2016AMC12A】

答: (B)

解:  $\frac{11!-10!}{9!} = \frac{10!\times(11-1)}{9!} = 10\times 10 = 100$

2. 滿足  $10^x \cdot 100^{2x} = 1000^5$  的  $x$  之值為?

- (A) 1 (B) 2 (C) 3 (D) 4 (E) 5

【2016AMC12A】

答: (C)

解:  $10^x \cdot 10^{4x} = 10^{15} \Rightarrow x+4x=15 \Rightarrow x=3$

3. 對於所有的實數  $x$  及  $y$ , 其中  $y \neq 0$ , 定義剩餘函數為  $rem(x, y) = x - y \left[ \frac{x}{y} \right]$ ,

這裡  $\left[ \frac{x}{y} \right]$  是小於或等於  $\frac{x}{y}$  的最大整數。試問  $rem\left(\frac{3}{8}, -\frac{2}{5}\right)$  之值為何?

- (A)  $-\frac{3}{8}$  (B)  $-\frac{1}{40}$  (C) 0 (D)  $\frac{3}{8}$  (E)  $\frac{31}{40}$

【2016AMC12A】

答: (B)

解:  $rem\left(\frac{3}{8}, -\frac{2}{5}\right) = \frac{3}{8} - \left(-\frac{2}{5}\right) \times \left[ \frac{\frac{3}{8}}{-\frac{2}{5}} \right] = \frac{3}{8} + \frac{2}{5} \times \left[ \frac{15}{-16} \right] = \frac{3}{8} + \frac{2}{5} \times (-1) = \frac{-1}{40}$

4. 若 60, 100,  $x$ , 40, 50, 200, 90 這 7 個數的平均數、中位數與眾數都等於  $x$ , 則  $x$  之值為何?

- (A) 50 (B) 60 (C) 75 (D) 90 (E) 100

【2016AMC12A】

答: (D)

解:  $x = \frac{1}{7}(40+50+60+x+90+100+200) \Rightarrow x=90$

5. 哥德巴赫猜想說: 每個大於 2 的偶數可以寫成兩個質數的和(例如:  $2016 = 13 + 2013$ )。到目前為止, 沒人證明此猜想是正確的, 也沒有人舉出反例證明此猜想是錯的。試問下列何者是一個反例?

- (A) 找出一個大於 2 的奇數可以寫成兩個質數的和  
(B) 找出一個大於 2 的奇數不可以寫成兩個質數的和  
(C) 找出一個大於 2 的偶數可以寫成兩個非質數的和  
(D) 找出一個大於 2 的偶數可以寫成兩個質數的和  
(E) 找出一個大於 2 的偶數不可以寫成兩個質數的和

【2016AMC12A】

答：(E)

6. 一個用 2016 個銅板所排成的三角形陣列，  
第一列排放 1 個銅板，第二列排放 2 個銅板，第三列排放 3 個銅板，  
依此繼續排放，直到第  $N$  列排放  $N$  個銅板恰好排完。試問  $N$  各個位數的數字和為多少？  
(A) 6 (B) 7 (C) 8 (D) 9 (E) 10 [2016AMC12A]

答：(D)

解：  $\frac{N(N+1)}{2} = 2016 \Rightarrow N = 63$ ，則  $N$  各個位數的數字和為  $6+3=9$

7. 下列何者是  $x^2(x+y+1) = y^2(x+y+1)$  的圖形？

- (A) 兩條平行線  
(B) 兩條相交直線  
(C) 三條有共同交點的直線  
(D) 三條直線，它們沒有通過同一點  
(E) 一條直線與一條拋物線

[2016AMC12A]

答：(D)

解：  $x^2(x+y+1) = y^2(x+y+1) \Rightarrow (x^2 - y^2)(x+y+1) = 0 \Rightarrow (x-y)(x+y)(x+y+1) = 0$   
表三直線  $x-y=0$ 、 $x+y=0$ 、 $x+y+1=0$  它們沒有通過同一點

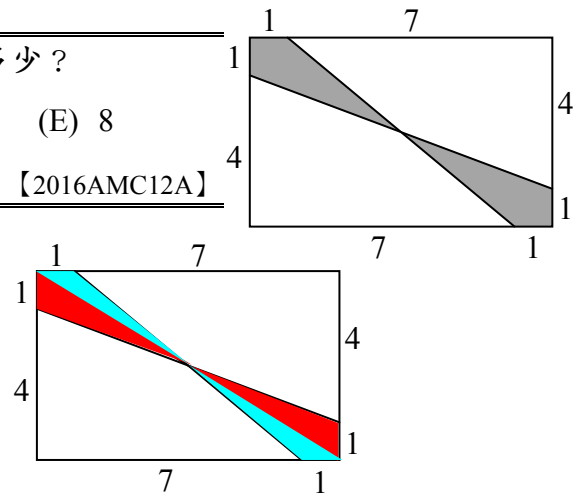
8. 如圖，在此  $8 \times 5$  的長方形中陰影區域的面積為多少？

- (A)  $4\frac{3}{4}$  (B) 5 (C)  $5\frac{1}{4}$  (D)  $6\frac{1}{2}$  (E) 8

[2016AMC12A]

答：(D)

解：  $1 \times (7+1) \times \frac{1}{2} + 1 \times (4+1) \times \frac{1}{2} = \frac{8+5}{2} = 6\frac{1}{2}$



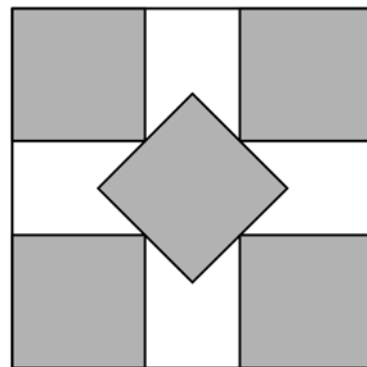
9. 五個以陰影表示全等的小正方形  
嵌在一個單位正方形（邊長為 1）的內部，  
它們彼此外接（內部都不相交）。  
中間的小正方形各邊的中點  
和其它四個小正方形的頂點重合，如圖所示。

若這些小正方形的邊長均為  $\frac{a-\sqrt{2}}{b}$ ，

其中  $a$ 、 $b$  為正整數，則  $a+b$  之值為多少？

- (A) 7 (B) 8 (C) 9 (D) 10 (E) 11

[2016AMC12A]

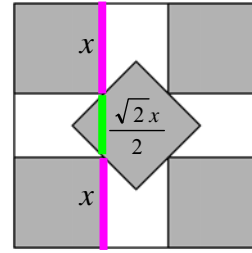


答：(E)

解：  $2x + \frac{\sqrt{2}x}{2} = 1 \Rightarrow x = \frac{2}{4+\sqrt{2}} = \frac{4-\sqrt{2}}{7}$ ，

粉紅色 湖綠色 單位  
線段長 線段長 正方形  
邊長

故  $a+b=4+7=11$



10. 某電影院中有五個朋友坐在五個位置一排的座位上，這五個座位由左至右編號從 1 到 5（此處的『左』及『右』是他們坐好時，從觀察者面對他們的觀點而言）。在電影播放中「甲」去大廳買爆米花。當她回來時發現「乙」向右挪了兩個位子，「丙」向左移了一個位置，且「丁」與「戊」交換了座位，而將最旁邊的位子留給「甲」。

試問「甲」在去買爆米花前原來坐在幾號的位子上？

(A) 1 (B) 2 (C) 3 (D) 4 (E) 5 【2016AMC12A】

答：(B)

解：原來為 (乙) (甲) (丙) (丁) (戊)

後來為 (甲) (丙) (乙) (戊) (丁)

11. 某夏令營中有 100 位學生，每位學生會唱歌、會跳舞或會演戲。這些學生至少具有其中一項才能，但沒有一位學生具有全部才能。已知有 42 學生不會唱歌，有 65 位學生不會跳舞，有 29 位學生不會演戲。試問有幾位學生具有其中兩項才能？

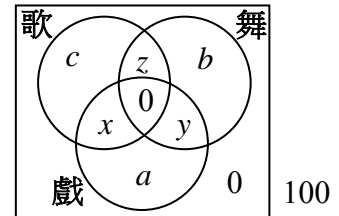
(A) 16 (B) 25 (C) 36 (D) 49 (E) 64 【2016AMC12A】

答：(E)

解：

$$\begin{cases} a+b+y=42 \\ a+c+x=65 \\ b+c+z=29 \\ a+b+c+x+y+z=100 \end{cases}$$

$\Rightarrow x+y+z=200-42-65-29=64$



12. 如圖，在  $\triangle ABC$  中， $\overline{AB}=6$ ,  $\overline{BC}=7$ ,  $\overline{CA}=8$ 。

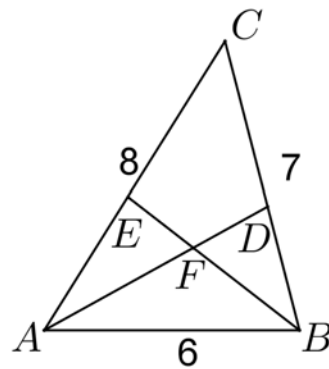
點  $D$  在  $\overline{BC}$  上，且  $\overline{AD}$  平分  $\angle BAC$ ；

點  $E$  在  $\overline{AC}$  上，且  $\overline{BE}$  平分  $\angle ABC$ 。

若兩條角平分線交於點  $F$ ，則  $\overline{AF}:\overline{FD}=?$

(A) 3:2 (B) 5:3 (C) 2:1 (D) 7:3 (E) 5:2

【2016AMC12A】



答：(C)

解：孟氏定理  $\Rightarrow \frac{\overline{AF}}{\overline{FD}} \times \frac{\overline{BD}}{\overline{BC}} \times \frac{\overline{CE}}{\overline{EA}} = \frac{\overline{AF}}{\overline{FD}} \times \frac{3}{7} \times \frac{7}{6} = 1$

$\Rightarrow \frac{\overline{AF}}{\overline{FD}} = \frac{2}{1}$

13. 設  $N$  為 5 的倍數。一個紅球與  $N$  個綠球隨意地排在一直線上。

令  $P(N)$  表示至少有  $\frac{3}{5}$  的綠球排在紅球同一側的機率。

顯然  $P(5)=1$ ，且當  $N$  非常大時  $P(N)$  趨近於  $\frac{4}{5}$ 。

試問使得  $P(N) < \frac{321}{400}$  最小的  $N$ ，其各位數的數字和為多少？

- (A) 12 (B) 14 (C) 16 (D) 18 (E) 20

【2016AMC12A】

答：(A)

解：令  $N=5t$ ，將全部位置編號為  $1 \sim (5t+1)$

當紅球位於  $1 \sim (2t+1)$  號，或  $(3t+1) \sim (5t+1)$  號時，至少有  $\frac{3}{5}$  綠球在紅球同一側

$$\text{故 } P(N) = \frac{(2t+1) \times 2}{5t+1} < \frac{321}{400} \Rightarrow 5t > 479 \Rightarrow N > 479 \Rightarrow N \text{ 取 } 480$$

14. 在正立方體的各頂點標上數字 1 至 8，每個數字只用一次，

且使得各個面上四個頂點的數字和都相等。各頂點安排的數字能由旋轉正立方體而得到相同狀況都視為一樣的安排。試問有多少種不同安排頂點數字的方法？

- (A) 1 (B) 3 (C) 6 (D) 12 (E) 18

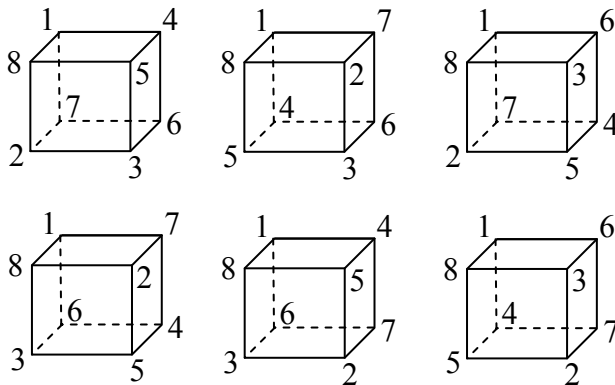
【2016AMC12A】

答：(C)

解：每一個數會在三個面上出現，故每一個面數字總和為  $\frac{3(1+2+3+\dots+8)}{6} = 18$

而序對  $(1+8)=(7+2)=(6+3)=(4+5)=9$ ，共有  $\frac{4!}{4} = 6$  種環狀排列可能

即



15. 長方形  $ABCD$  中， $\overline{AB}=6$ 、 $\overline{BC}=3$ 。點  $E$  在  $B$  與  $C$  之間，點  $F$  在  $E$  與  $C$  之間，使得  $\overline{BE}=\overline{EF}=\overline{FC}$ ， $\overline{AE}$  與  $\overline{AF}$  分別交  $\overline{BD}$  於點  $P$  及點  $Q$ 。

若  $\overline{BP}:\overline{PQ}:\overline{QD}$  可以表示為  $r:s:t$ ，其中  $r$ 、 $s$ 、 $t$  均為正整數，

且它們的最大公因數為 1，則  $r+s+t$  之值為何？

- (A) 7 (B) 9 (C) 12 (D) 15 (E) 20

【2016AMC12A】

答：(E)

解：令  $B(0,0)$ 、 $A(6,0)$ 、 $E(0,1)$ 、 $F(0,2)$ 、 $C(0,3)$ 、 $D(6,3)$

$$\overleftrightarrow{BD} : y = \frac{1}{2}x, \quad \overleftrightarrow{AE} : \frac{x}{6} + \frac{y}{1} = 1, \quad \overleftrightarrow{AF} : \frac{x}{6} + \frac{y}{2} = 1$$

$$\overrightarrow{BD}、\overrightarrow{AE} \text{ 交於 } P\left(\frac{3}{2}, \frac{3}{4}\right)、Q\left(\frac{12}{5}, \frac{6}{5}\right)$$

$$\text{故 } \overline{BP}:\overline{PQ}:\overline{QD} = \frac{3\sqrt{5}}{4}:\frac{9\sqrt{5}}{20}:\frac{9\sqrt{5}}{5} = 5:3:12, \text{ 則 } r+s+t=5+3+12=20$$

16. 將函數  $y = \log_3 x$ ,  $y = \log_x 3$ ,  $y = \log_{\frac{1}{3}} x$ , 及  $y = \log_x \frac{1}{3}$  的圖形畫在同一坐標平面上。

試問在  $x$  坐標為正的半平面上, 有兩個或兩個以上函數圖形相交的交點有幾個?

- (A) 2 (B) 3 (C) 4 (D) 5 (E) 6 【2016AMC12A】

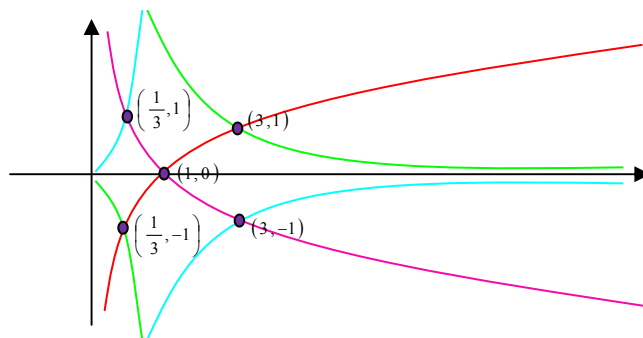
答: (D)

解:  $y = \log_3 x$ ,  $y = \log_x 3$ ,

相乘得 1, 表互為倒數

$y = \log_{\frac{1}{3}} x$ ,  $y = \log_x \frac{1}{3}$ ,

相乘得 1, 表互為倒數



17. 設  $ABCD$  為正方形, 以  $\overline{AB}$ ,  $\overline{BC}$ ,  $\overline{CD}$ ,  $\overline{DA}$  為邊, 向外作正三角形, 這些三角形的中心分別為  $E$ 、 $F$ 、 $G$ 、 $H$ 。

試問正方形  $EFGH$  與正方形  $ABCD$  的面積比值為何?

- (A) 1 (B)  $\frac{2+\sqrt{3}}{3}$  (C)  $\sqrt{2}$  (D)  $\frac{\sqrt{2}+\sqrt{3}}{2}$  (E)  $\sqrt{3}$  【2016AMC12A】

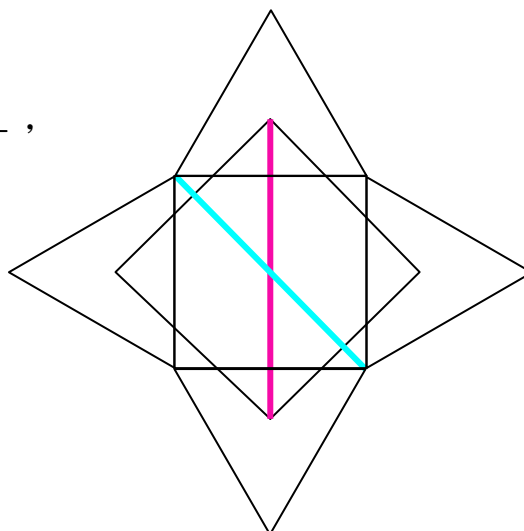
答: (B)

解: 正方形  $ABCD$  邊長為 1, 則其對角線為  $\sqrt{2}$ ,

則正方形  $EFGH$  對角線為  $1 + \frac{2}{3} \times \frac{\sqrt{3}}{2} = 1 + \frac{1}{\sqrt{3}}$ ,

正方形  $EFGH$  與正方形  $ABCD$  的面積比值

$$\begin{aligned} \text{為 } \left( \frac{1 + \frac{1}{\sqrt{3}}}{\sqrt{2}} \right)^2 &= \left( \frac{\sqrt{3} + 1}{\sqrt{6}} \right)^2 \\ &= \frac{4 + 2\sqrt{3}}{6} = \frac{2 + \sqrt{3}}{3} \end{aligned}$$



18. 若有正整數  $n$  使得  $110 \cdot n^3$  有 110 個正因數, 其中正因數包含 1 及  $110 \cdot n^3$ , 則  $81 \cdot n^4$  有多少個正因數?

- (A) 110 (B) 191 (C) 261 (D) 325 (E) 425 【2016AMC12A】

答: (D)

解: 110 個正因數 =  $2 \times 5 \times 11$  個正因數,

表  $110 \cdot n^3 = 2^1 \times 5^4 \times 11^{10}$  (或  $2^1 \times 5^{10} \times 11^4$  或  $2^4 \times 5^1 \times 11^{10}$  或  $2^4 \times 5^{10} \times 11^1$ )

或  $2^{10} \times 5^1 \times 11^4$  或  $2^{10} \times 5^4 \times 11^1$ )  
 故  $n = 5^1 \times 11^3$  (或  $5^3 \times 11^1$  或  $2^1 \times 11^3$  或  $2^1 \times 5^3$  或  $2^3 \times 11^1$  或  $2^3 \times 5^1$ )  
 則  $81 \cdot n^4 = 3^4 \times 5^4 \times 11^{12}$  (或  $3^4 \times 5^{12} \times 11^3$  或  $3^4 \times 2^4 \times 11^{12}$  或  $3^4 \times 2^4 \times 5^{12}$   
 或  $3^4 \times 2^{12} \times 11^4$  或  $3^4 \times 2^{12} \times 5^4$ )  
 則  $81 \cdot n^4$  有  $5 \times 5 \times 13 = 325$  個正因數

19. 小杰投擲一枚公正的錢幣 8 次，他從數線上的 0 開始，  
 若投擲的錢幣出現正面，則向數線的正向走 1 單位；  
 若出現反面，則向數線的負向走 1 單位。  
 如果他在移動的過程中曾達到數線正向 4 的機率為  $\frac{a}{b}$ ，其中  $a$ 、 $b$  為互質的正整數，  
 則  $a+b$  之值為何？  
 (例如，他投擲錢幣出現「正反正正正正正正」的情形就有經過正向 4)  
 (A) 69 (B) 151 (C) 257 (D) 293 (E) 313 【2016AMC12A】

答：(B)

$\frac{1}{\downarrow}$	+	$\frac{8}{\downarrow}$	+	$\frac{8!}{6! \times 2!}$	+	$\frac{4}{\downarrow}$	+	$\frac{4}{\downarrow}$	+	$\frac{1}{\downarrow}$
++++++		+-----		+-----		++++		+---+		++++
停在 8		停在 6，		+-----		停在 4，		+---+		停在 0
		有一個反		停在 4，		有一個正		+---+		
		要插空隙		有兩個反		要插空隙		+---+		
				可插空隙		要插空隙		+---+		

解：  $\frac{1}{2^8} + \frac{8}{2^8} + \frac{8!}{6! \times 2!} \frac{1}{2^8} + \frac{4}{2^8} + \frac{4}{2^8} + \frac{1}{2^8} = \frac{46}{256} = \frac{23}{128}$

20. 某運算  $\square$  對所有的非零實數  $a$ 、 $b$ 、 $c$  滿足： $a \square (b \square c) = (a \square b) \cdot c$   
 (此處“ $\cdot$ ”是一般的乘號)，且  $a \square a = 1$ 。若方程式  $2016 \square (6 \square x) = 100$  的解為  $\frac{p}{q}$ ，  
 其中  $p$ 、 $q$  為互質的正整數，則  $p+q$  之值為何？  
 (A) 109 (B) 201 (C) 301 (D) 3049 (E) 33601 【2016AMC12A】

答：(A)

解：  $a \square (b \square c) = (a \square b) \cdot c$ ，其實代表  $\frac{a}{\frac{b}{c}} = \frac{a}{b} \cdot c$ ，亦即運算  $\square$  代表除法

故  $2016 \square (6 \square x) = 100 \Rightarrow \frac{2016}{6} \cdot x = 100 \Rightarrow x = \frac{600}{2016} = \frac{25}{84}$ ，故  $p+q = 25+84 = 109$

21. 某個四邊形內接於一個半徑為  $200\sqrt{2}$  的圓。若有三個邊的邊長都是 200，  
 則此四邊形第四個邊的邊長為多少？  
 (A) 200 (B)  $200\sqrt{2}$  (C)  $200\sqrt{3}$  (D)  $300\sqrt{2}$  (E) 500 【2016AMC12A】

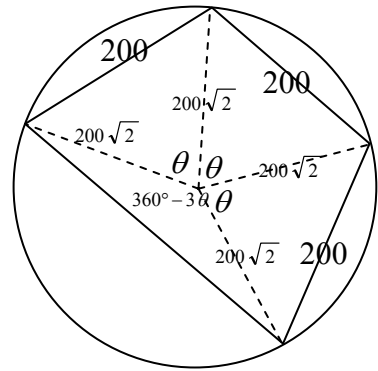
答：(E)

解：  $\cos \theta = \frac{(200\sqrt{2})^2 + (200\sqrt{2})^2 - (200)^2}{2(200\sqrt{2})(200\sqrt{2})} = \frac{3}{4}$

$$\cos 3\theta = 4\left(\frac{3}{4}\right)^3 - 3\left(\frac{3}{4}\right) = \frac{-9}{16}$$

$$\cos(360^\circ - \theta) = \frac{(200\sqrt{2})^2 + (200\sqrt{2})^2 - x^2}{2(200\sqrt{2})(200\sqrt{2})} = \frac{-9}{16}$$

故  $x = 500$



22. 有多少個正整數三元組  $(x, y, z)$  滿足  $\text{lcm}(x, y) = 72$ ,  $\text{lcm}(x, z) = 600$ , 且  $\text{lcm}(y, z) = 900$ ? (其中  $\text{lcm}(a, b)$  是  $a$  與  $b$  的最小公倍數)

(A) 15 (B) 16 (C) 24 (D) 27 (E) 64

【2016AMC12A】

答：(A)

解：  $\text{lcm}(x, y) = 72 = 2^3 \times 3^2 \Rightarrow x = 2^a \times 3^b, y = 2^c \times 3^d$

$$\Rightarrow \max(a, c) = 3, \max(b, d) = 2$$

$$\text{lcm}(x, z) = 600 = 2^3 \times 3^1 \times 5^2 \Rightarrow x = 2^a \times 3^b, z = 2^e \times 3^f \times 5^2$$

$$\Rightarrow \max(a, e) = 3, \max(b, f) = 1$$

$$\text{lcm}(y, z) = 900 = 2^2 \times 3^2 \times 5^2 \Rightarrow y = 2^c \times 3^d, z = 2^e \times 3^f \times 5^2$$

$$\Rightarrow \max(c, e) = 2, \max(d, f) = 2$$

由  $\max(a, c) = 3, \max(a, e) = 3, \max(c, e) = 2$  得知：  $a = 3$

此時序對  $(c, e) = (2, 2)$  或  $(2, 1)$  或  $(2, 0)$  或  $(1, 2)$  或  $(0, 2)$

由  $\max(b, d) = 2, \max(b, f) = 1, \max(d, f) = 2$  得知：  $d = 2$

.....此時序對  $(d, f) = (1, 1)$  或  $(1, 0)$  或  $(0, 1)$

對應序對  $(c, e), (d, f)$ , 總共有  $5 \times 3 = 15$  種組合

23. 從  $[0, 1]$  區間中隨機獨立選取三數。

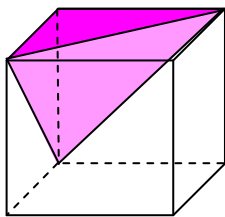
試問以這三個數為邊長可以形成一個三角形的機率為多少？

(A)  $\frac{1}{6}$  (B)  $\frac{1}{3}$  (C)  $\frac{1}{2}$  (D)  $\frac{2}{3}$  (E)  $\frac{5}{6}$

【2016AMC12A】

答：(C)

解：



應  $x + y > z$

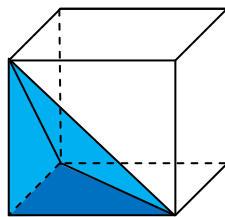
則  $x + y \leq z$

不合，故

扣除錐體

$$\frac{1^2}{2} \times 1 \times \frac{1}{3}$$

$$= \frac{1}{6}$$



應  $y + z > x$

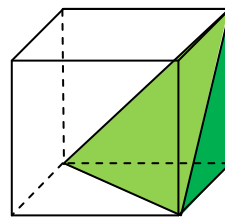
則  $y + z \leq x$

不合，故

扣除錐體

$$\frac{1^2}{2} \times 1 \times \frac{1}{3}$$

$$= \frac{1}{6}$$



應  $z + x > y$

則  $z + x \leq y$

不合，故

扣除錐體

$$\frac{1^2}{2} \times 1 \times \frac{1}{3}$$

$$= \frac{1}{6}$$

幾何機率

$$= 1 - \frac{1}{6} \times 3$$

$$= \frac{1}{2}$$

24. 有一個最小的正數  $a$  滿足

「存在正數  $b$  使得方程式  $x^3 - ax^2 + bx - a = 0$  所有的根均為實數。」

事實上，對此數  $a$ ， $b$  是唯一確定的。試問  $b$  之值為何？

(A) 8 (B) 9 (C) 10 (D) 11 (E) 12

【2016AMC12A】

答：(B)

25. 設  $k$  為一正整數。小杜與小薇輪流在黑板上寫出與擦去的數如下：

小杜開始先在黑板上寫出  $k+1$  位最小的完全平方數，

每次小杜寫完一數後，小薇擦去此數的末  $k$  個數字。

然後小杜再寫出一個接續的完全平方數，小薇再擦去此數的末  $k$  個數字。

繼續此操作(不限於  $k+1$  位數的完全平方數)，

直到剩下在黑板上的最後兩個數字至少相差 2 即停止。

令  $f(k)$  為沒有寫在黑板上最小的正整數。

例如，若  $k=1$ ，則小杜寫出的數為 16, 25, 36, 49 及 64，

而留在黑板上的數字為 1, 2, 3, 4, 6，因此  $f(1)=5$ 。

試問  $f(2)+f(4)+f(6)+\dots+f(2016)$  所有位數的數字和為多少？

(A) 7986 (B) 8002 (C) 8030 (D) 8048 (E) 8064

【2016AMC12A】

答：(E)

解：  $k=2$ ，表小杜開始先在黑板上寫出 3 位起最小的完全平方數，

100、121、144、169、196、225、256、289、324、361、

400、441、484、529、576、625、676、729、784、841、

900、961、1024、1089、1156、1225、1296、1369、1444、1521

1600、1681、1764、1849、1936、2025、2116、2209、2304、2401

2500、2601、2704、2809、2916、3025、3364、3481、3600

每次小杜寫完一數後，小薇擦去此數的末 2 個數字，得出

1、1、1、1、1、2、2、2、3、3、

4、4、4、5、5、6、6、7、7、8、

9、9、10、10、11、12、12、13、14、15

16、16、17、18、19、20、21、22、23、24

25、26、27、28、29、30、33、34、36，至此相差 2

而  $f(2)$  為沒有寫在黑板上最小的正整數 = 35

觀察：2500、2601、2704、2809、2916、3025、3364、3481、3600

由於「末兩數亦為完全平方」，符合  $(50+k)^2$ ， $k=0,1,2,\dots$

而「進位到百位」的「終止數」

$$\text{顯然位於} \left( \begin{array}{c} \underbrace{50}_{\text{產生 2500}} + \underbrace{10}_{\text{使百位進位}} \end{array} \right)^2 = 3600,$$

而「消失數」 $f(2)=35=25+10$

$k=4$ ，延續先前規律，則「進位到萬位」的「終止數」

$$\text{顯然位於} \left( \begin{array}{c} \underbrace{5000}_{\text{產生 25000000}} + \underbrace{100}_{\text{使萬位進位}} \end{array} \right)^2 = 26010000,$$

而「消失數」 $f(4)=2600=2500+100$



$k=6$ ，延續先前規律，則「進位到百萬位」的「終止數」

$$\text{顯然位於} \left( \underbrace{500000}_{\text{產生 } 250000000000} + \underbrace{1000}_{\text{使萬位進位}} \right)^2 = 251001000000,$$

而「消失數」 $f(6)=251000=250000+1000$

$$\text{得知} \left\{ \begin{array}{l} f(2)=25+10 \\ f(4)=25 \times 10^2 + 10^2 \\ f(6)=25 \times 10^4 + 10^3 \\ f(8)=25 \times 10^6 + 10^4 \\ \dots \\ f(2016)=25 \times 10^{2014} + 10^{1008} \end{array} \right.$$

則  $f(2)+f(4)+f(6)+\dots+f(2016)$  所有位數的數字和  
為  $(2+5) \times 1008 + (1) \times 1008 = 8 \times 1008 = 8064$